



Date

A Calcul • Calcule les différences.

$17 - 3 = \underline{\quad}$

$18 - 4 = \underline{\quad}$

$25 - 4 = \underline{\quad}$


$15 - 3 = \underline{\quad}$

$26 - 2 = \underline{\quad}$


$27 - 2 = \underline{\quad}$



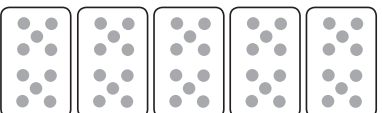
B Numération • Complète les étiquettes.




___ dizaines et ___ unités

___ dizaines et ___ unités



___ dizaines et ___ unités



___ dizaines et ___ unités

C Numération

Range les nombres du plus petit au plus grand.

58

69

15

27

62

26

