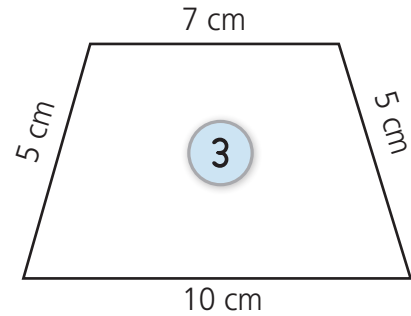
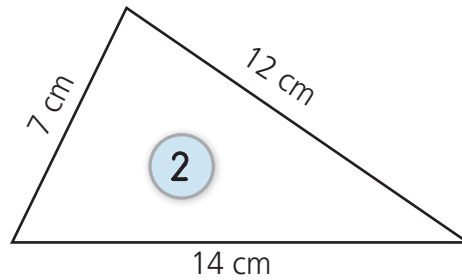
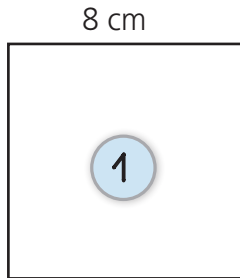




Date

A *Mesure* • Calcule le périmètre des figures suivantes.



Périmètre Figure 1 : _____

Périmètre Figure 2 : _____

Périmètre Figure 3 : _____

B *Numération* • Complète avec les signes < ; > ou =.

Fais bien attention au sens du signe !



3 500 201 _____ 3 501 201

3 000 + 200 + 40 _____ 3000 + 200 + 4

3 020 001 _____ 20 000 + 3 000 000 + 1

501 310 110 _____ 501 301 110

1000 + 2 000 000 + 500 _____ 2 000 000 + 2000 + 500

5 301 000 _____ 300 000 + 1000 + 5 000 000

600 502 900 _____ 600 + 502 + 900

C *Résolution de problème* • Tirobot dispose de 115 € pour son club de ping-pong.

Il veut acheter des nouvelles raquettes à 9 € pièce. Combien de raquettes Tirobot pourra-t-il acheter ?

Ta recherche :

Phrase réponse : _____

