




Date

A

Numération

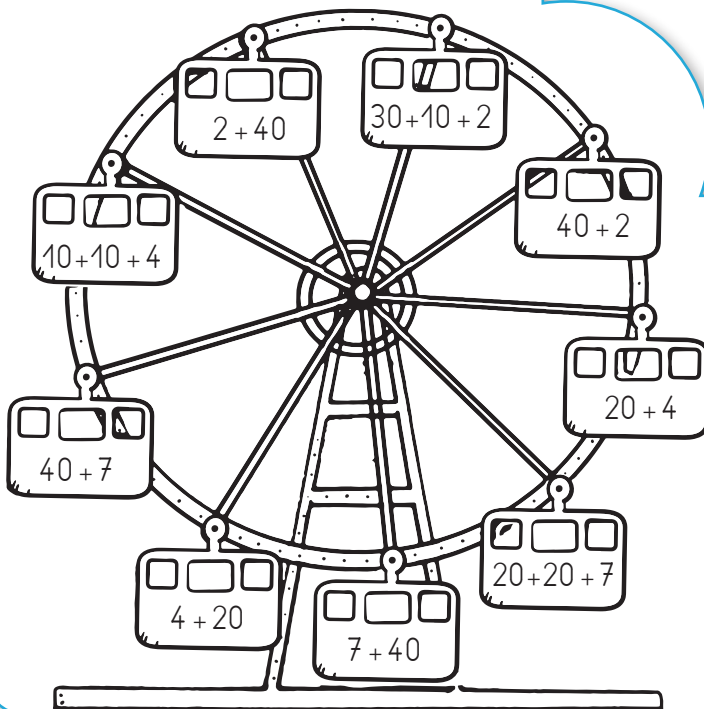
Relie les nombres de 1 à 69.



B

Calcul


Colorie selon le code couleur.



24 orange

42 vert

47 jaune



C

Résolution de problème • Robotine fait des gâteaux.

Elle prépare 4 gâteaux à la fraise et 4 gâteaux à l'ananas.

Combien de gâteaux prépare-t-elle en tout ?

Ta recherche :

Robotine prépare gâteaux.

Recopie : _____

