



Date

A Calcul • Calcule les différences.

$800 - 300 = \underline{\hspace{2cm}}$


$640 - 500 = \underline{\hspace{2cm}}$

$980 - 500 = \underline{\hspace{2cm}}$


$723 - 400 = \underline{\hspace{2cm}}$

$900 - 600 = \underline{\hspace{2cm}}$

$597 - 500 = \underline{\hspace{2cm}}$



B Numération • Écris le nombre qui correspond à chaque étiquette.




9 unités, 9 dizaines et 4 centaines =

5 centaines, 6 dizaines et 3 unités =

4 dizaines, 2 unités et 7 centaines =

9 centaines et 5 unités =



C Résolution de problème • Au stand de tir aux balles, il y a 2 paniers.

On donne 40 balles à Tirobot. Il doit lancer autant de balles dans chaque panier.
Combien de balles Tirobot doit-il lancer dans chaque panier ?

Ta recherche :

Phrase réponse : _____

